



GUÍA DE MATEMÁTICA

PROFESOR/A: CRISTINA GUZMÁN – MARCELA ARÉVALO - MARTA WILLIAMS CURSO: 1° BÁSICO A-B-C

NOMBRE ALUMNO/A: _____ FECHA: / /2020

UNIDAD: Los números

OBJETIVOS DE APRENDIZAJE:

1. Conocer los primeros números, grafía y conteo.


INSTRUCCIONES GENERALES:

- Escucha atentamente las instrucciones de quien te ayudará a completar la guía.
- Usa lápiz grafito, goma y lápices de colores para completar la guía según corresponda.
- Si tienes dudas, pregunta a quien te ayudará a completar la guía.

AUTORIZACIÓN COORDINACIÓN ACADÉMICA

Timbre CA de Ciclo

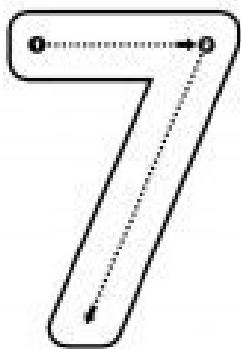
1.- Repasa los números con lápiz grafito y realiza los ejercicios siguiendo las indicaciones.



Remarca

6	6	6	6	6
6	6	6	6	6
6	6	6	6	6

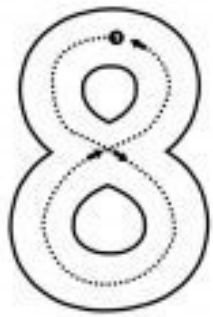
Colorea 6 dedos:



Remarca

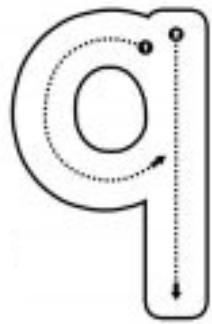
7	7	7	7	7
7	7	7	7	7
7	7	7	7	7

Colorea 7 dedos:



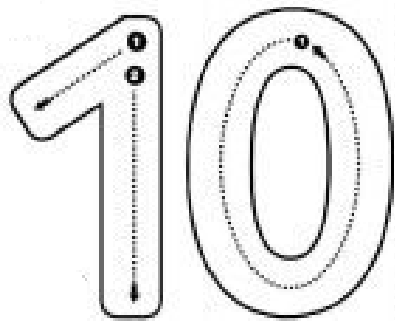
Remarca

Colorea 8 dedos:



Remarca

Colorea 9 dedos:

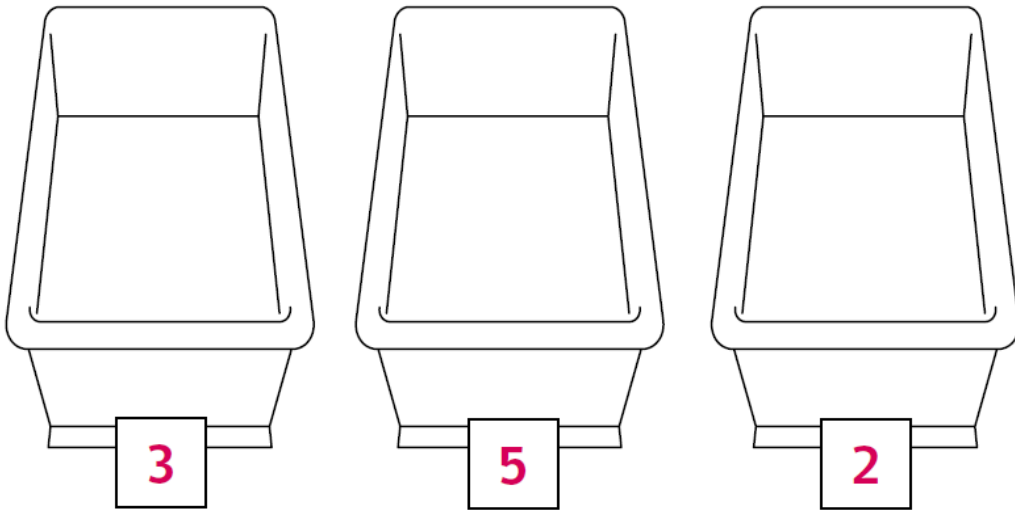


Remarca

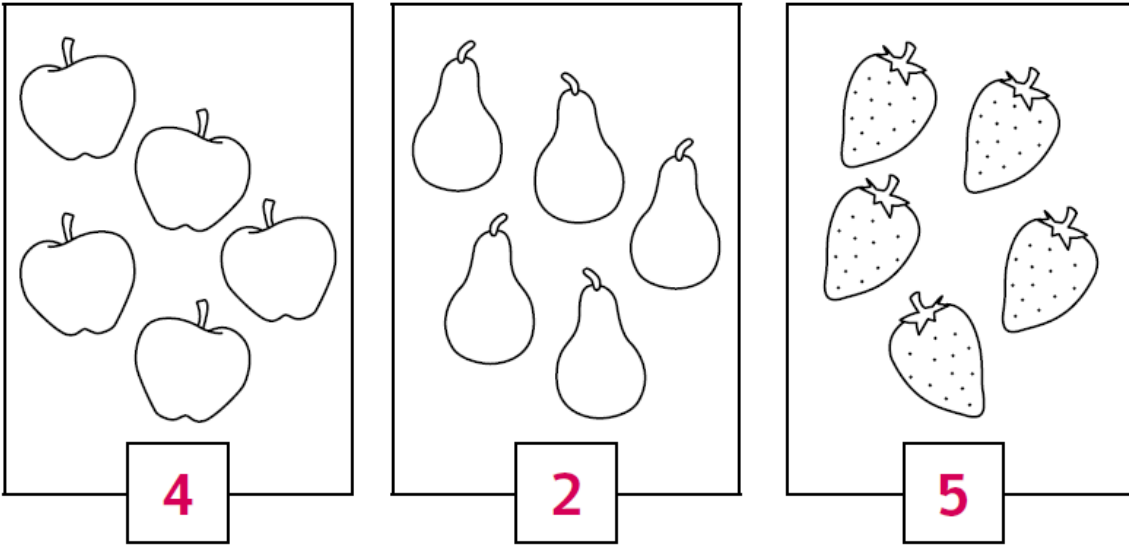
Colorea 10 dedos:

2) Remarca los números siguiendo las flechas:

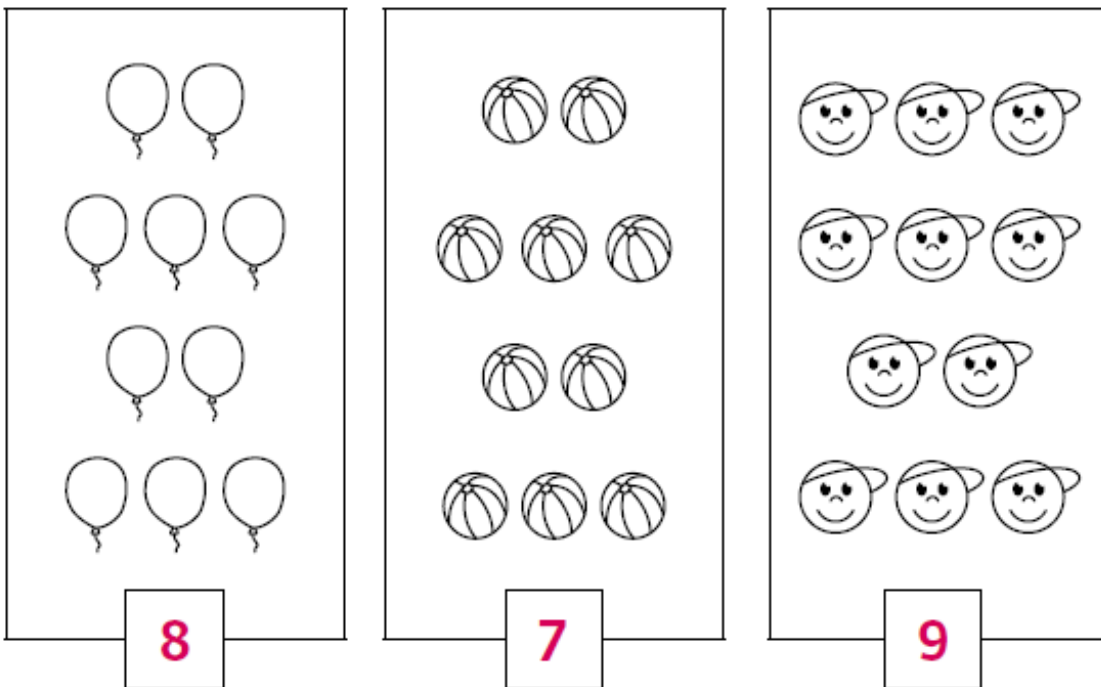
3) Dibuja tantas pelotas como indica el número:



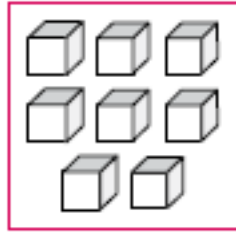
4) Pinta las frutas según el número indicado:



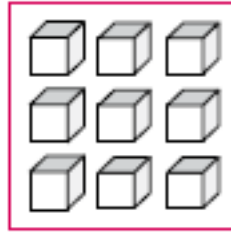
5) Tacha tantos dibujos como indica los números:



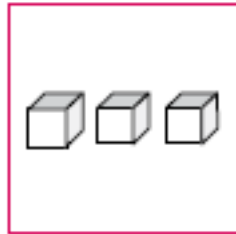
6) Cuenta los cubitos y únelos con una línea según el número correspondiente:



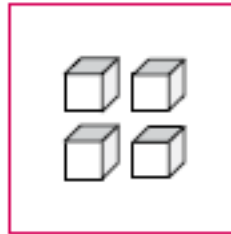
3



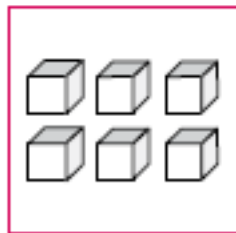
8



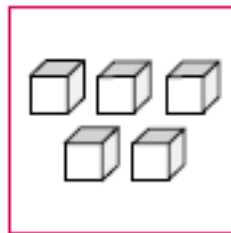
5



9












4



6

7.- Remarca cada número, recórtalos y ordénalos de mayor a menor.



1

9

6

4

2

3

10

7

5

8