



## GUÍA DE MATEMÁTICA

PROFESOR/A: CRISTINA GUZMÁN – MARCELA ARÉVALO - MARTA WILLIAMS      CURSO: 1° BÁSICO A-B-C

NOMBRE ALUMNO/A: \_\_\_\_\_      FECHA:    /    /2020

UNIDAD: Apresto y números

OBJETIVOS DE APRENDIZAJE:

1. Reconocer izquierda y derecha.
2. Reconocer concepto arriba abajo.
3. Reconocer los números, grafía y conteo.

INSTRUCCIONES GENERALES:


- Escucha atentamente las instrucciones de quien te ayudará a completar la guía.
- Usa lápiz grafito, goma y lápices de colores para completar la guía según corresponda.
- Si tienes dudas, pregunta a quien te ayudará a completar la guía.

**AUTORIZACIÓN COORDINACIÓN ACADÉMICA**

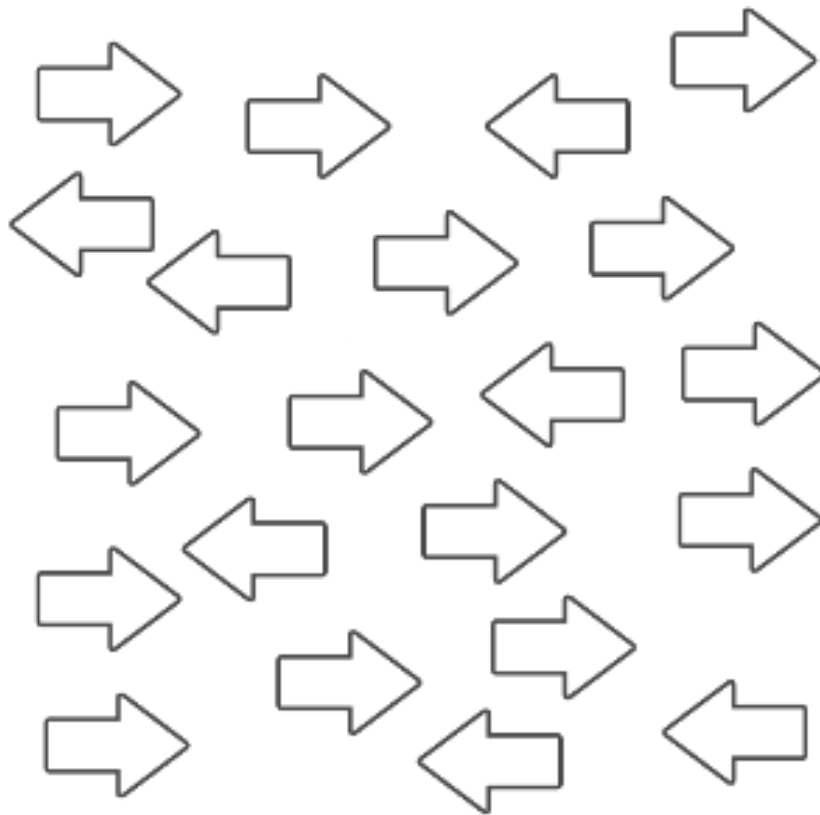
*Timbre CA de Ciclo*

I.- Ejercicios de Apresto.

1.- Pinta de rojo el lado derecho y de azul el lado izquierdo del niño.




2.- Pinta de azul las flechas que van hacia la izquierda y de rojo las que van hacia la derecha.



3.- Pinta los animales que estan arriba de la mesa.




4.- Completa las figuras que faltan.



5.- Marca con una "X" lo que ocurre primero.

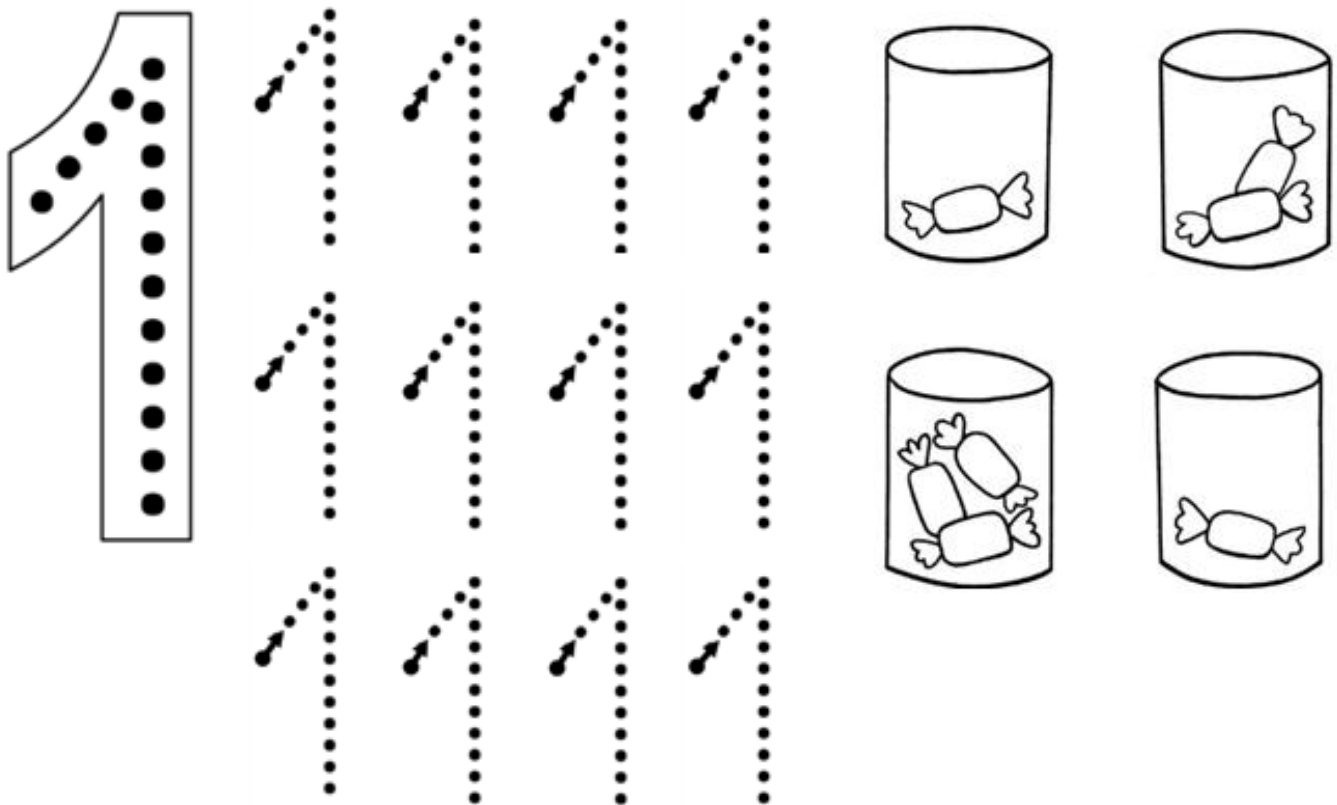
¿Qué imagen va primero?



6.- Conociendo los números.

1) Repasa con tu lápiz grafito los siguientes números. Luego pinta los elementos solicitados.

2) Pinta solo un elemento:





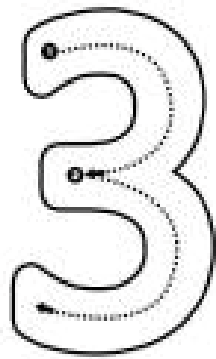
Remarca

2	2	2	2	2
2	2	2	2	2
2	2	2	2	2

Colorea 2 dedos:

3) Remarca:

1	1	1	1	1	1	1
2	2	2	2	2	2	2



Remarca




3	3	3	3	3
3	3	3	3	3
3	3	3	3	3

Colorea 3 dedos:

4) Remarca:

1	1	1	1	1	1	1
2	2	2	2	2	2	2
3	3	3	3	3	3	3

5) Cuenta los elementos y escribe el número que corresponde:

 <input type="text"/>	 <input type="text"/>	 <input type="text"/>
---	---	---

